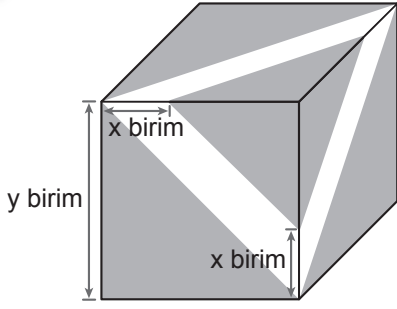


## LGS Soruları

2018

1



Küp şeklindeki kutunun tüm yüzlerine şekildeki gibi eşit büyüklükte şeritler yapıştırılıyor ve şeritler dışında kalan üçgen biçimindeki bölgeler boyanıyor.

**Buna göre, boyanan bölgenin alanını birimkare cinsinden gösteren cebirsel ifade aşağıdakilerden hangisidir?**

- A)  $6y^2 - 6xy + 3x^2$
- B)  $3y^2 - 6xy + 6x^2$
- C)  $6y^2 - 6xy - 3x^2$
- D)  $3y^2 - 6xy - 6x^2$

2018

2

**Aşağıdakilerden hangisi**

$$3x^2 - 6xy + 3y^2$$

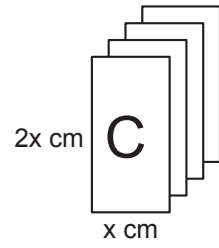
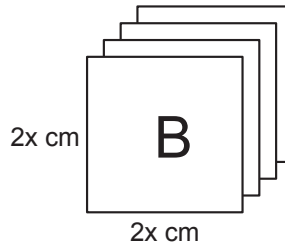
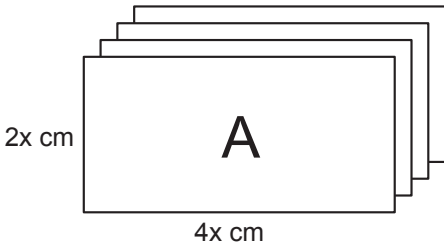
**cebirsel ifadesinin çarpanlarından biridir?**

- A)  $3x$
- B)  $y - x$
- C)  $x + y$
- D)  $3y^2$

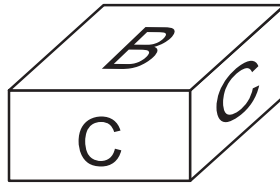
2019

3

Aşağıda dikdörtgen şeklindeki A, B, C kartonlarının her birinden dörder adet verilmiştir.



Bu kartonların kenarları çakıştırılarak iki tane kare prizma oluşturuluyor. Bu prizmalardan biri aşağıda verilmiştir.



**Kartonların tamamı kullanıldığına göre diğer prizmanın yüzey alanı kaç santimetrekaredir?**

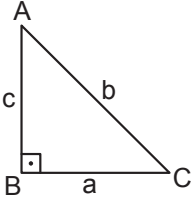
- A)  $16x^2$
- B)  $26x^2$
- C)  $32x^2$
- D)  $40x^2$

2019

4

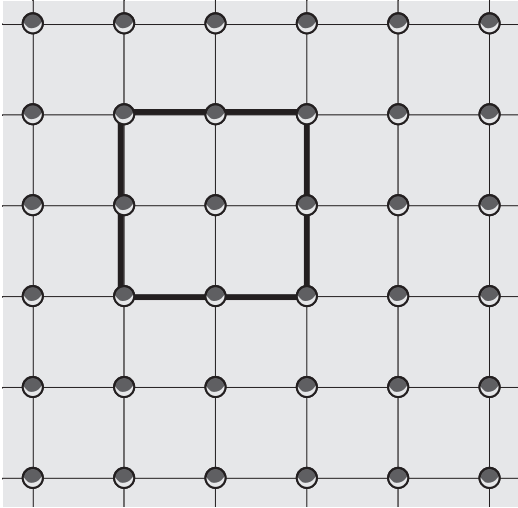
Dik üçgenlerde  $90^\circ$  lik açının karşısındaki kenara hipotenüs denir.

Bir dik üçgende dik kenarların uzunluklarının kareleri toplamı, hipotenüsün uzunluğunun karesine eşittir.

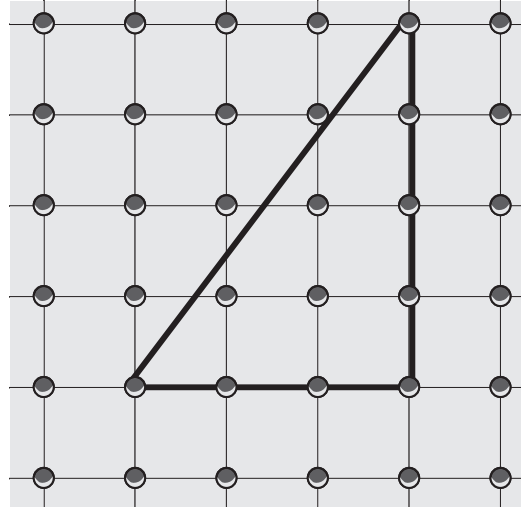


$$a^2 + c^2 = b^2$$

Geometri tahtası, bir zeminin üzerine eşit aralıklarla yerleştirilmiş çivilerden oluşur.



Şekil I



Şekil II

Şekil I'deki geometri tahtasında oluşturulan karenin alanı  $4x^2 + 8x + 4$  birimkaredir.

Bu geometri tahtasında Şekil II'deki gibi oluşturulan üçgenin çevre uzunluğu  $x$  cinsinden kaç birimdir?

A)  $12x + 12$

B)  $14x + 14$

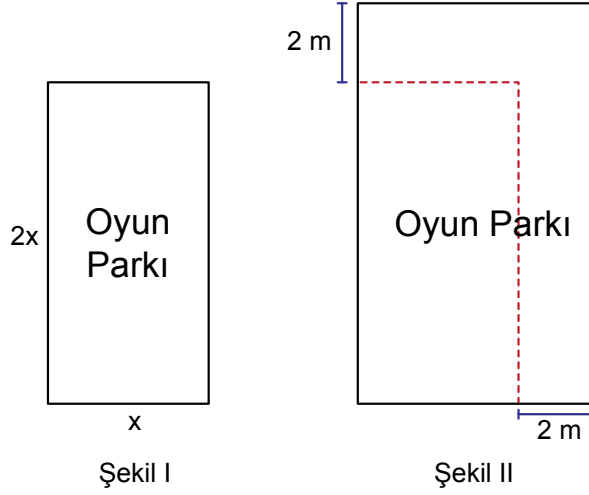
C)  $12\sqrt{2}x + 12\sqrt{2}$

D)  $12(x + 1)^2$

2020

5

Kenarlarının uzunlukları  $x$  metre ve  $2x$  metre olan dikdörtgen şeklindeki oyun parkının planı Şekil I'de verilmiştir. Bu oyun parkının kenarları 2'şer metre uzatılarak Şekil II'deki gibi dikdörtgen biçiminde bir oyun parkı planlanmıştır.



Buna göre Şekil II'deki oyun parkının alanının Şekil I'deki oyun parkının alanından kaç metre-kare fazla olduğunu veren cebirsel ifade aşağıdakilerden hangisidir?

- A)  $6x + 4$       B)  $6x + 6$       C)  $3x + 2$       D)  $3x + 4$

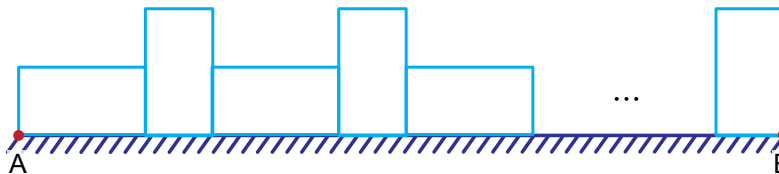
2020

6

Aşağıda çevresinin uzunluğu  $(2x + 2)$  m olan dikdörtgenlerden yeterli sayıda verilmiştir.



Bu dikdörtgenler [AB] boyunca sırasıyla önce uzun kenarı sonra kısa kenarı üzerine aralarında boşluk kalmayacak şekilde aşağıdaki gibi yerleştirilmiştir. Uzun kenarı üzerine yerleştirilen ilk dikdörtgenin bir köşesi A noktası ile kısa kenarı üzerine yerleştirilen son dikdörtgenin bir köşesi B noktası ile çakışmıştır.



Bu dikdörtgenler  $(x + 1)$  kez kısa kenarı üzerine yerleştirildiğine göre [AB]'nin uzunluğunu metre cinsinden veren cebirsel ifade aşağıdakilerden hangisidir?

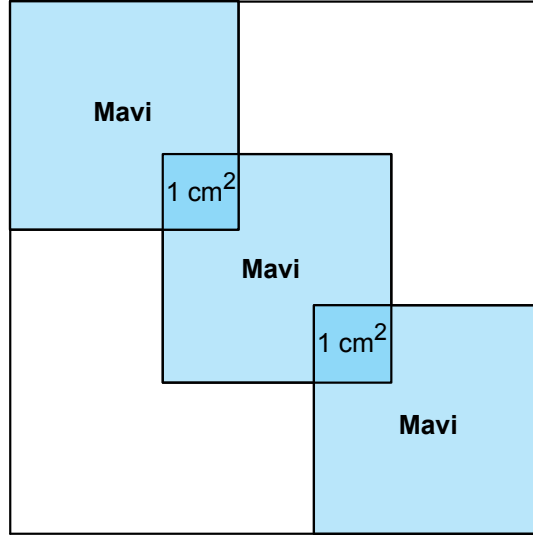
- A)  $x^2 + x + 2$       B)  $2x^2 + 1$       C)  $x^2 + 1$       D)  $x^2 + 2x + 1$



2020

7

Kare şeklindeki boş bir panoya kare şeklindeki üç eş mavi karton, köşegenleri panonun köşegeni ile çakışacak şekilde aşağıdaki gibi yerleştirilmiştir.



Panoda boş bırakılan bölgelerin alanları toplamı  $6x^2 + 36x + 54$  santimetrekaredir. Kartonların üst üste gelen bölgelerinin her biri, alanları  $1 \text{ cm}^2$  olan karesel bölgelerdir.

**Buna göre panonun çevresinin uzunluğunu santimetre cinsinden veren cebirsel ifade aşağıdakilerden hangisidir?**

A)  $12x + 40$

B)  $12x + 36$

C)  $12x + 32$

D)  $12x + 28$



2021

8

Kare şeklindeki bir arsada kenar uzunluğu  $x$  m olan kare şeklinde bir bölge spor sahası, kenar uzunluğu  $y$  m olan kare şeklinde bir bölge de çay bahçesi olarak aşağıdaki gibi planlanmıştır. Kalan bölgeler ise çocuk parkı olarak ayrılmıştır.



Buna göre çocuk parkı olarak ayrılan bölgelerin alanları toplamını metrekare cinsinden veren cebirsel ifade aşağıdakilerden hangisidir?

A)  $xy$

B)  $2xy$

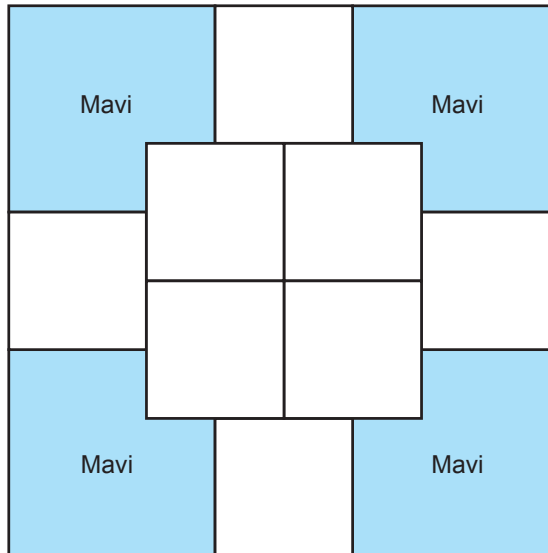
C)  $3xy$

D)  $4xy$

2021

9

Kare şeklindeki bir kâğıdın bir yüzü aşağıdaki gibi sekiz eş beyaz bölgeye ve dört eş mavi bölgeye ayrılmıştır.



Beyaz bölgelerden her biri, alanı  $(4x^2 + 8x + 4)$   $\text{cm}^2$  olan karesel bölgelerdir.

Buna göre mavi bölgelerden birinin alanını santimetrekare cinsinden veren cebirsel ifade aşağıdakilerden hangisidir?

A)  $6(x + 1)^2$

B)  $8(x + 1)^2$

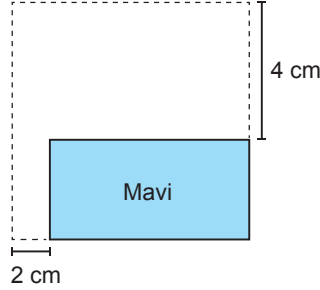
C)  $4(x + 2)^2$

D)  $2(x + 2)^2$

2022

10

Mavi dikdörtgenel bölgenin kısa kenarı 4 cm, uzun kenarı ise 2 cm uzatılarak alanı  $(9x^2 + 24x + 16)$  cm<sup>2</sup> olan aşağıdaki karesel bölge elde edilecektir.



Buna göre, mavi dikdörtgenel bölgenin çevresinin uzunluğunu santimetre cinsinden veren cebirsel ifade aşağıdakilerden hangisidir?

A)  $12x + 4$

B)  $12x + 16$

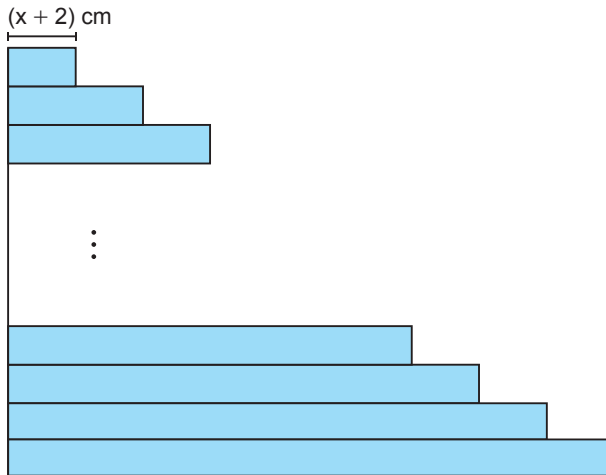
C)  $9x + 4$

D)  $9x + 16$

2022

11

Kısa kenarlarının uzunlukları  $x$  cm olan dikdörtgen şeklindeki 12 adet kâğıt uzun kenarlarından çakıştırılarak aşağıdaki şekil elde edilmiştir.



Bu kâğıtlar; en üstteki kâğıdın uzun kenarının uzunluğu  $(x + 2)$  cm olmak üzere sonraki her kâğıt, bir önceki kâğıttan 2 cm daha uzun olacak biçimde yerleştirilmiştir.

Buna göre, oluşan şeklin bir yüzünün alanını santimetrekare cinsinden veren cebirsel ifade aşağıdakilerden hangisidir?

A)  $24x^2 + 312x$

B)  $24x^2 + 156$

C)  $12x^2 + 312$

D)  $12x^2 + 156x$

